






Estas son las tareas a realizar en esta primera unidad. **Recuerda hacer también las actividades interactivas del libro virtual.**

El estudio de la población	La población de España II	La población de Europa	ZONA TÉCNICA
<p>Realiza un esquema de los instrumentos que se usan para conocer la población de un lugar. Haz un tu cuaderno un cuadro sobre las variantes demográficas. Estos vídeos te ayudarán a comprender con más claridad:</p>  <p>Ejercicios de la página 57, el 1 y el 3.</p>	<p>Lee atentamente las páginas 60 y 61 del libro. Haz un esquema en tu cuaderno sobre los tipos de población en relación al trabajo. Realiza la siguiente ficha: PINCHA AQUÍ Haz en tu cuaderno los ejercicios 1, 2 y 4 de la página 61. Finalmente visualiza este vídeo.</p> 	<p>Lee las páginas 64 y 65 y haz un esquema en tu cuaderno sobre las características de la población europea. Visiona este vídeo para completar lo que has estudiado:</p>  <p>Ahora realiza las actividades 2, 3 y 4 de la página 65. Finalmente, haz estos ejercicios online. PINCHA AQUÍ</p>	<p>Observa la pirámide de población de la página 66, lee las observaciones. Ahora haz tú las observaciones a la pirámide de Motril, PINCHA AQUÍ.</p> <p>TAREAS A ENVIAR</p> <ul style="list-style-type: none"> ✓ Ficha autoenviable sobre la densidad de población. PINCHA AQUÍ ✓ Ficha sobre la población de España. ✓ Observaciones sobre la pirámide de población de Motril. ✓ Esquema de la unidad, página 69. ✓ Las preguntas de "Qué he aprendido" de la página 70.
<p>La población de España (I)</p> <p>Lee las páginas 58 y 59 del libro y visiona este vídeo:</p>  <p>Ahora realiza el siguiente ejercicio online: PINCHA AQUÍ Realiza en tu cuaderno los ejercicios 1 y 2 de la página 59,</p>	<p>La población de Andalucía</p> <p>Lee la página 62 y observa el mapa y contesta los ejercicios 1 y 3 de la página 63.</p>  <p>Pincha en el mapa interactivo de la población y haz una tabla con el nº de habitantes de los 10 pueblos costeros más cercanos a Motril.</p>		

5º A – Mª José Garaluz – CEIP REINA FABIOLA - garamajo@gmail.com

5º B – Fernando Rodríguez – CEIP REINA FABIOLA - ferdemotril@gmail.com

5º C – Ana Cabrera – CEIP REINA FABIOLA - anacabreca@hotmail.com